



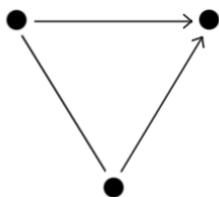
1. Чему равна сумма двух чисел, если она на 6 больше одного числа и на 5 больше другого?

Решение. _____

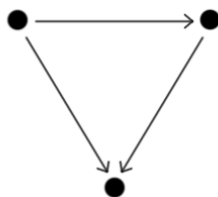
Ответ. _____

2. Какая из схем правильно отражает ситуацию: Витя обменялся марками с Колей и Сашей. Запиши букву правильного ответа. **Ответ:** _____

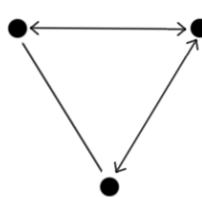
А



Б



В



3. Гном Загадалка опаздывал на встречу с друзьями. На конечной станции метро он, запыхавшись, вбежал в первый вагон. На второй станции он перешел во второй вагон, на третьей – в третий и затем на каждой станции переходил в следующий вагон. Из какого вагона Загадалка вышел на седьмой станции?

Решение. _____

Ответ. _____

4. Дан прямоугольник длиной 8 см и шириной 4 см. Как провести в этом прямоугольнике отрезок, чтобы получилось:

- а) два квадрата;
- б) два прямоугольника, но не квадрата;
- в) треугольник и четырехугольник;
- г) треугольник и пятиугольник.

Покажи на чертеже.

а)



б)



в)



г)



